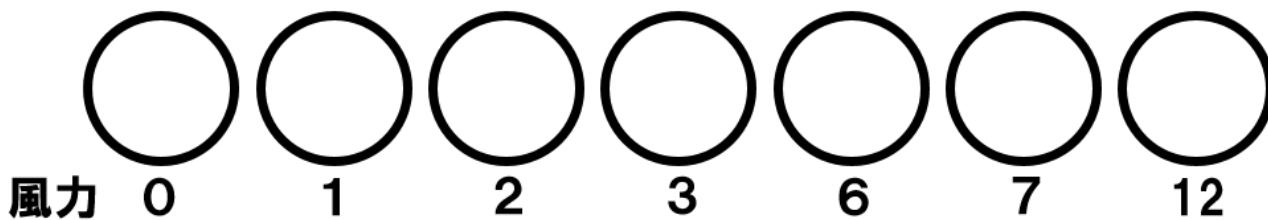


「気象観測」

雲量 空全体を10としたときの雲が占める割合。
 障害物がなく、空全体を見渡せる場所で_____で確認する。

天気	快晴	晴れ	曇り	雨	雪
記号					
雲量					

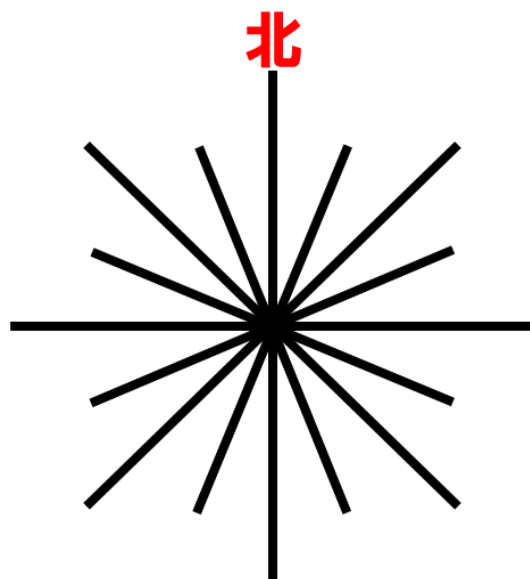
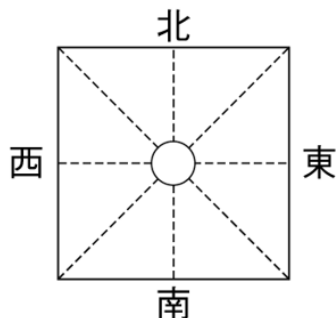
風力 風の強さ。0~12の13段階で表す。
 ちなみに、台風の風力は8 (17.2m/s)。



風向 風が_____方向。
 _____方位で表す。

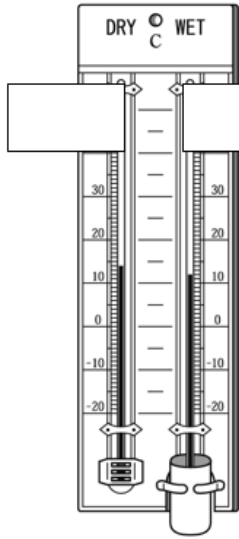
天気図記号練習問題

- ・雲量8
 - ・降水なし
 - ・風力3
- 煙突の煙が北西に流れていた。



乾湿計

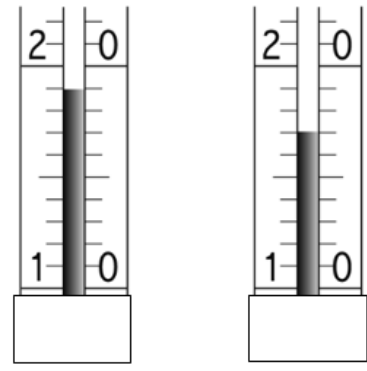
乾球と湿球の示度の差から、湿度表を使って湿度を求める。



乾球は___を表す。

感部をガーゼで包み
ガーゼの先端を___につける。

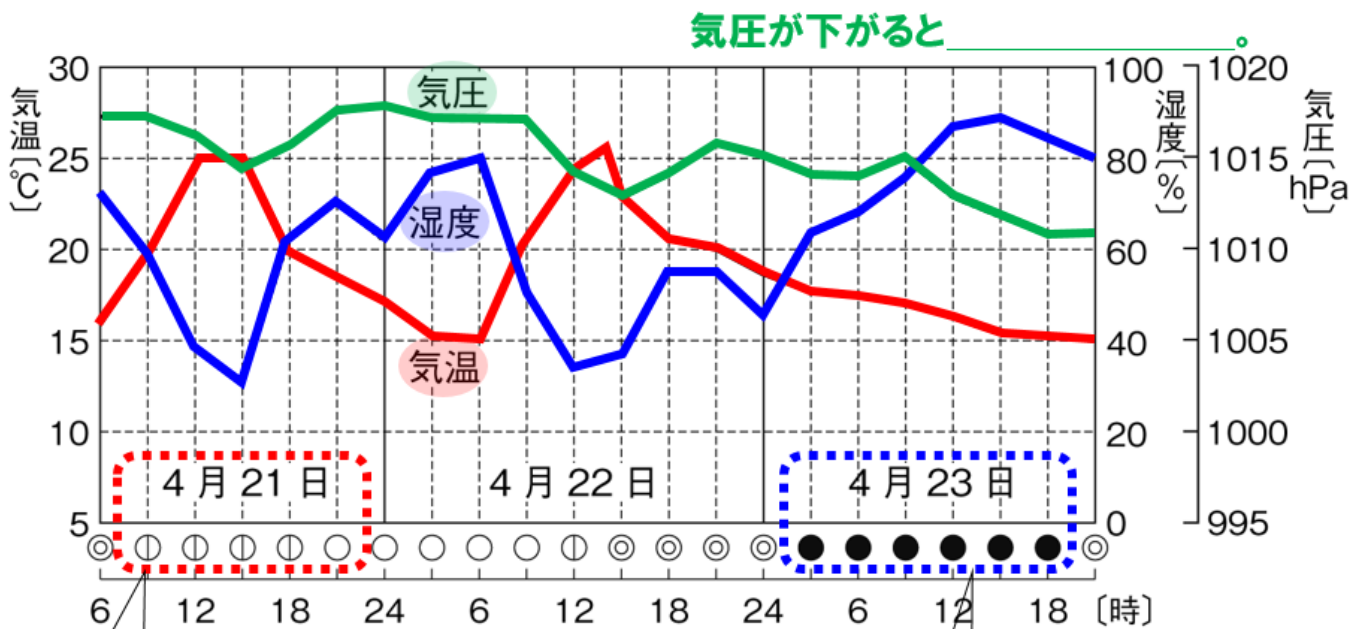
乾球よりも示度が低くなる！



湿度表の一部

乾球の示度 [°C]	乾球と湿球の示度の差 [°C]					
	0.0	0.5	1.0	1.5	2.0	2.5
20	100	95	90	86	81	77
19	100	95	90	85	81	76
18	100	95	90	85	80	75
17	100	95	90	85	80	75
16	100	95	90	84	79	74
15	100	95	90	84	79	74
14	100	95	90	84	79	74

湿度は %



気圧が下がると

晴れの日、気温は___になり、お昼過ぎ頃___になる。湿度は、___をする。

雨の日、気温も湿度もあまり___。