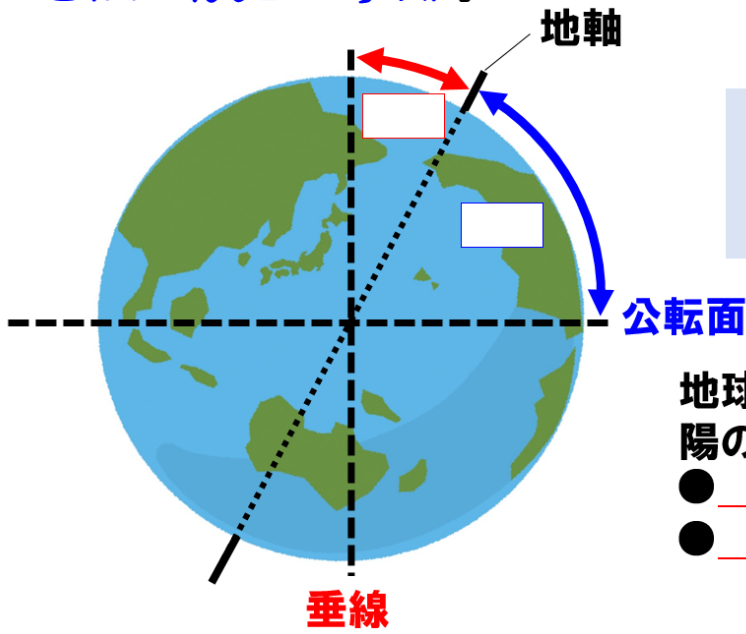


「地軸の傾きと季節」




地軸の傾き

公転面から
 垂線から

地球は、地軸を傾けたまま太陽の周りを公転しているので、

- _____
- _____

などが起こる。



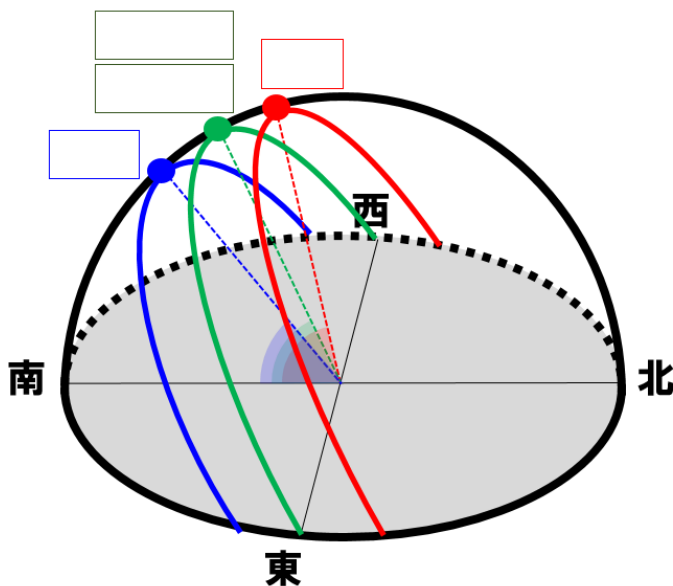
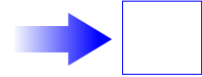
南中高度が大きいと

光の量が



南中高度が小さいと

光の量が



春分の日・秋分の日

日の出が _____ で、日の入りが _____。
 昼と夜の時間が _____。

夏至

日の出・日の入りが最も _____。
 南中高度が最も _____。
 昼の時間が最も _____。

冬至

日の出・日の入りが最も _____。
 南中高度が最も _____。
 昼の時間が最も _____。