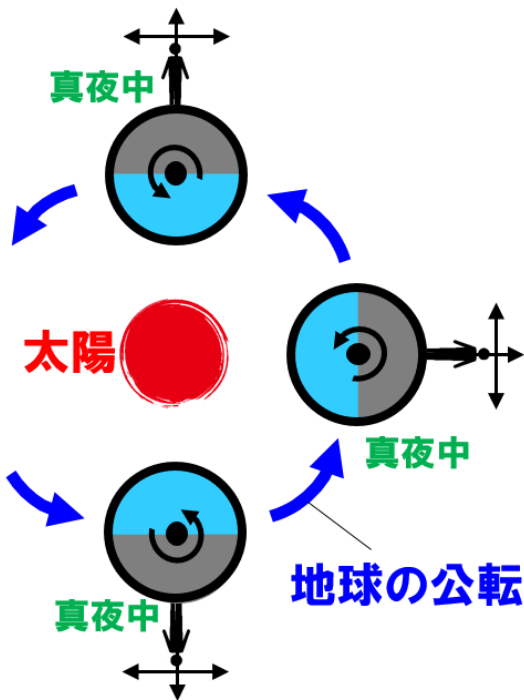
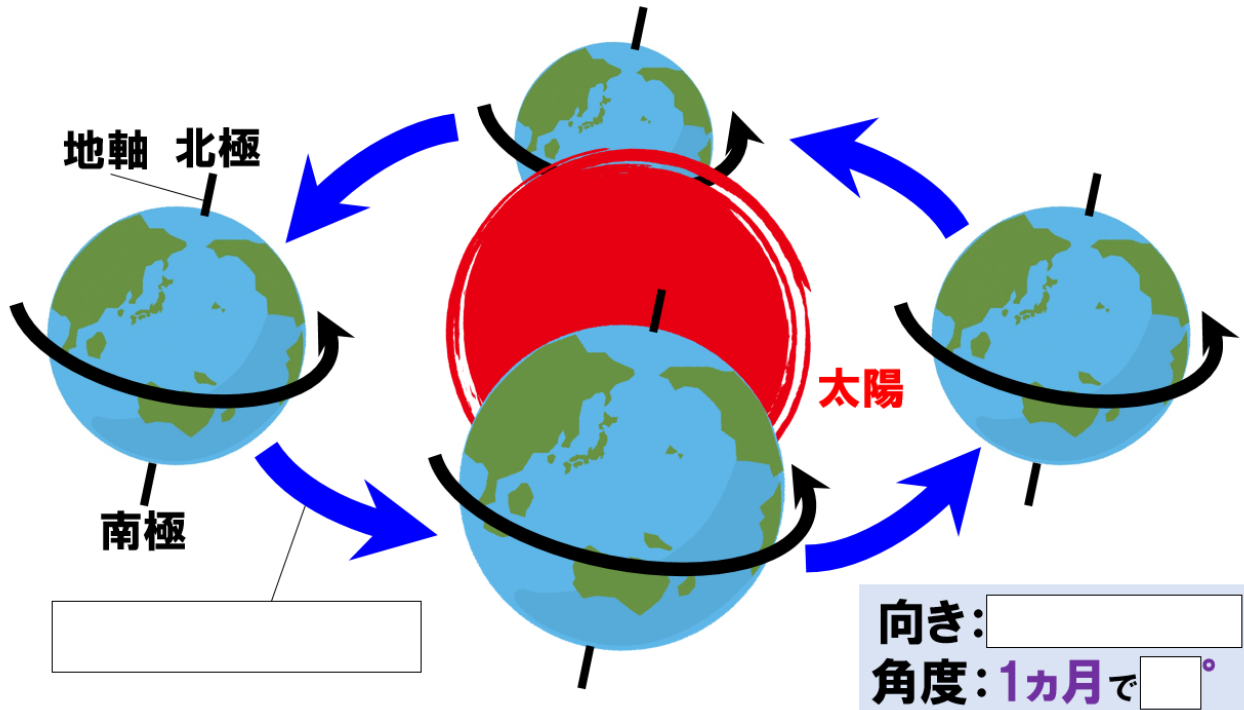


# 「地球の公転と年周運動」



向き  
から

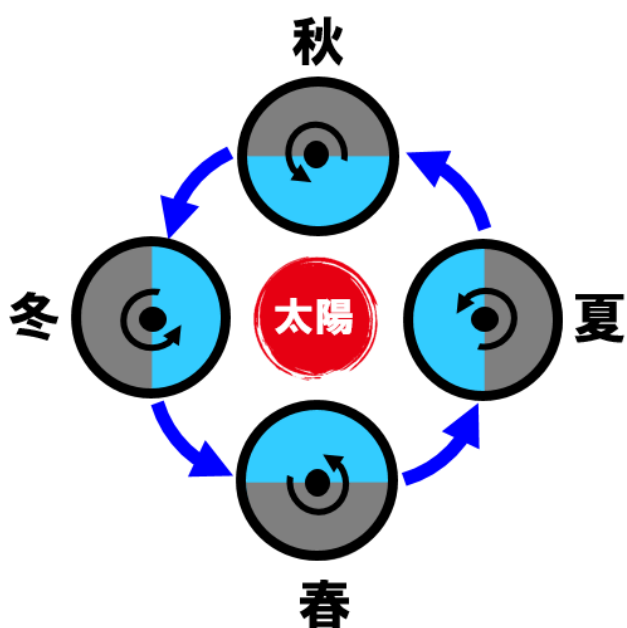
角度  
 1ヵ月で°

原因

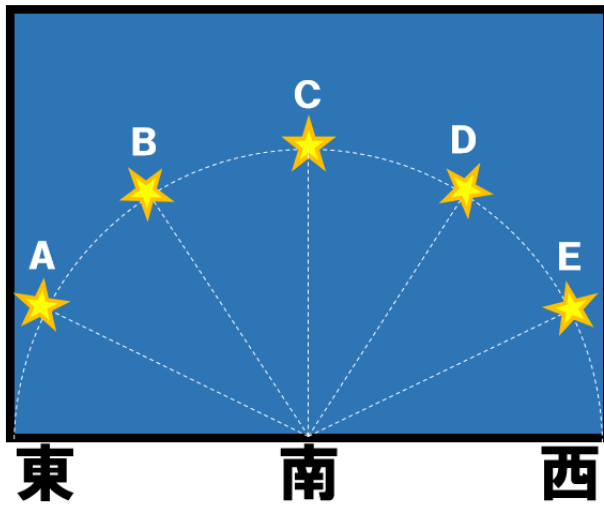
# 季節の星座 真夜中に南の空に見える星座。

季節	星座	
春		
夏		
秋		
冬		

夏の真夜中にさそり座はどの方角に見える？ A: \_\_\_\_\_  
 秋の日の入りのときに南の空に見える星座は？ A: \_\_\_\_\_  
 真夜中、さそり座が東の空に見える季節は？ A: \_\_\_\_\_



Q.10月1日午後9時にCの位置に見えた星は、12月1日午後9時にはどの位置で見えるか？



Q.12月1日午後9時にAに見えた星は、3月1日の午後9時にはどの位置で見えるか？

